


La classe de natació



Els xiquets de 2n estan aprenent a nadar ficant el cap davall de l'aigua. És important respirar bé.

- Mònica ha fet un poc més de 20 braçades. Qui és Mònica? De quin color porta el barret?
- Joan ha fet quasi 20 braçades. Qui és Joan? Quantes braçades ha fet?
- 🗣️ ■ **EXPRESSIÓ ORAL.** Paula ha fet quasi 30 braçades. Quantes en pot haver fet? Dóna dues respostes i explica com ho has sabut.

➔ SABER FER



TASCA FINAL

Reconeixeràs la desena més pròxima per a triar una cadira en un joc.

🔑 Què en saps ja?

NÚMEROS DE DUES XIFRES

1 Completa les sèries.

10	20	30						
90	80	70						

2 Escribe los números anterior i posterior.

<input type="text"/> ◀ 20 ▶ <input type="text"/>	<input type="text"/> ◀ 50 ▶ <input type="text"/>	<input type="text"/> ◀ 90 ▶ <input type="text"/>
<input type="text"/> ◀ 39 ▶ <input type="text"/>	<input type="text"/> ◀ 69 ▶ <input type="text"/>	<input type="text"/> ◀ 79 ▶ <input type="text"/>

3 Escribe tres números.

- Amb el 7 en la xifra de les desenes. ▶ , i
- Amb el 3 en la xifra de les unitats. ▶ , i



SUMES I RESTES SENSE PORTAR-NE

4 Calcula.

RECORDA

De primer, suma o resta les unitats.

$$\begin{array}{r} 46 \\ + 31 \\ \hline \end{array}$$

$$\begin{array}{r} 72 \\ + 25 \\ \hline \end{array}$$

$$\begin{array}{r} 58 \\ - 46 \\ \hline \end{array}$$

$$\begin{array}{r} 97 \\ - 52 \\ \hline \end{array}$$

5 RAONAMENT. Pensa i completa amb els números que falten.

$2 + \square = 3$

$4 + \square = 6$

$5 + \square = 8$

$3 - \square = 2$

$6 - \square = 4$

$8 - \square = 5$


La desena més pròxima

Quina és la desena més pròxima a 48?

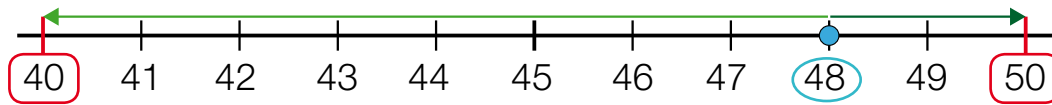
1r Descobrix entre quines desenes està.

$$48 = 4 \text{ D i } 8 \text{ U}$$

48 està entre i .



2n Descobrix de quina desena està més prop.



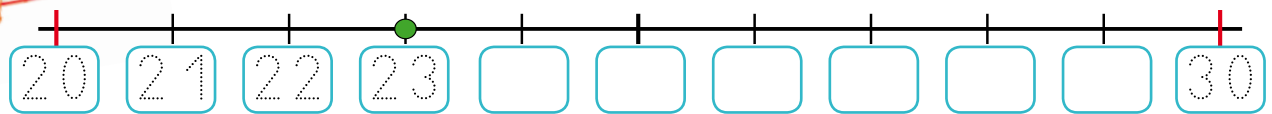
48 està més prop de que de .

La desena més pròxima a 48 és .

1 Completa i escriu la desena més pròxima a cada número.



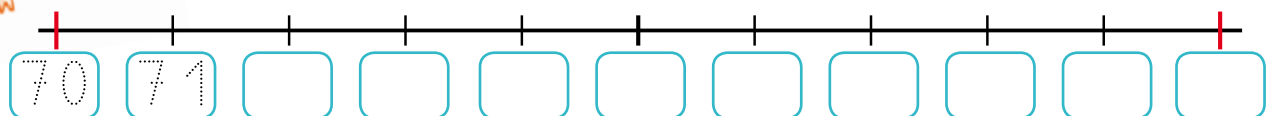
23 = D i U ▶ Està entre i .



La desena més pròxima a 23 és .



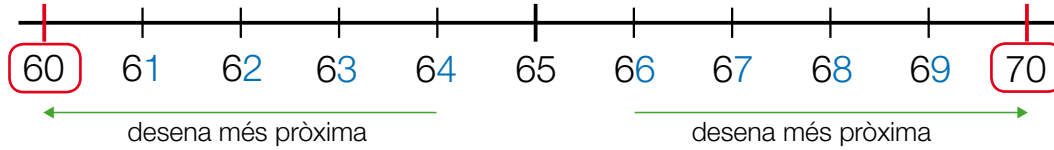
79 = D i U ▶ Està entre i .



La desena més pròxima a 79 és .

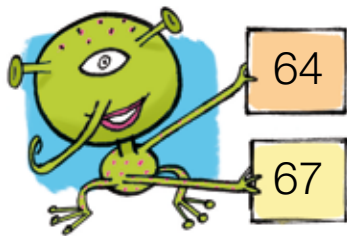
2 Observa, aprén i completa.

Quina és la desena més pròxima a cada número?



Compara la xifra de les unitats amb 5.

- Els números 61, 62, 63 i 64 estan entre 60 i 70.
La xifra de les unitats és menor que 5.
La seua desena més pròxima és 60.
- Els números 66, 67, 68 i 69 estan entre 60 i 70.
La xifra de les unitats és major que 5.
La seua desena més pròxima és 70.



○ 5 ▶ La desena més pròxima a 64 és .

○ 5 ▶ La desena més pròxima a 67 és .

3 Observa cada xifra del número i completa.

36 està entre i .

○ ▶ La desena més pròxima a 36 és .

42 està entre i .

○ ▶ La desena més pròxima a 42 és .

CÀLCUL MENTAL

7 + 3	5 + 6	6 + 8	8 + 4	9 + 5
5 + 1 + 4	3 + 4 + 7	2 + 6 + 5	7 + 3 + 6	6 + 4 + 8

La centena

Quants rotllets hi ha a la caixa?

En cada paquet hi ha 1 desena de rotllets.

A la caixa hi ha 10 paquets, és a dir,
10 desenes de rotllets.

10 desenes són 1 centena.

1 centena són 100 unitats.


100 ► cent

10 paquets
de 10 rotllets
són 100 rotllets.

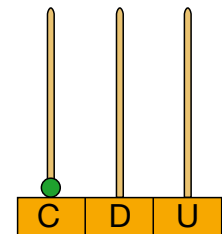


A la caixa hi ha 100 rotllets.

1 centena es representa de diverses formes:

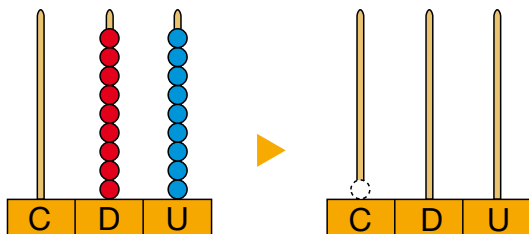


C	D	U
1	0	0



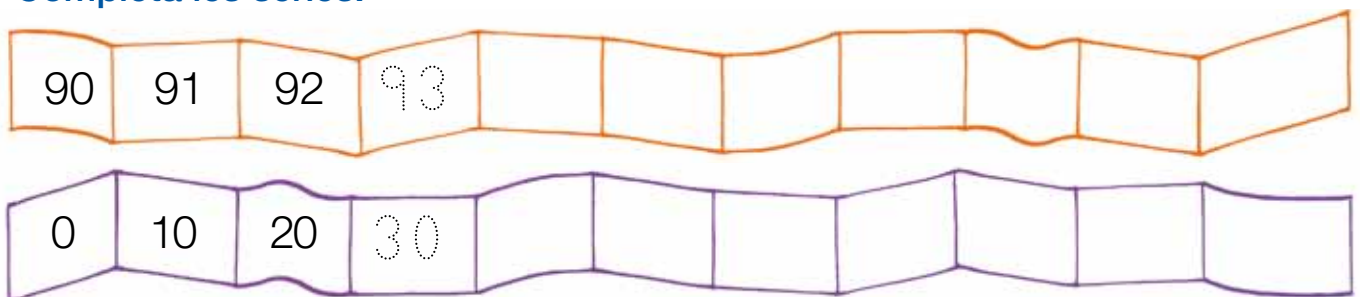
1 C = 10 D = 100 U

1 Afig una unitat i completa.




99 ► 0 C, 0 D i 9 U
 $\downarrow +1$
 100 ► 1 C, 0 D i 0 U

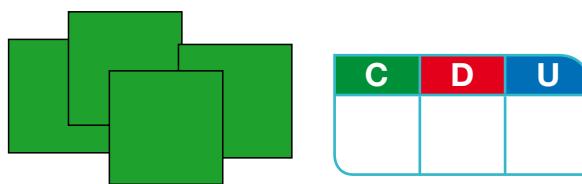
2 Completa les sèries.



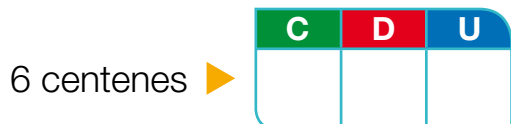
3 Compta i completa.



centenes = unitats



centenes = unitats

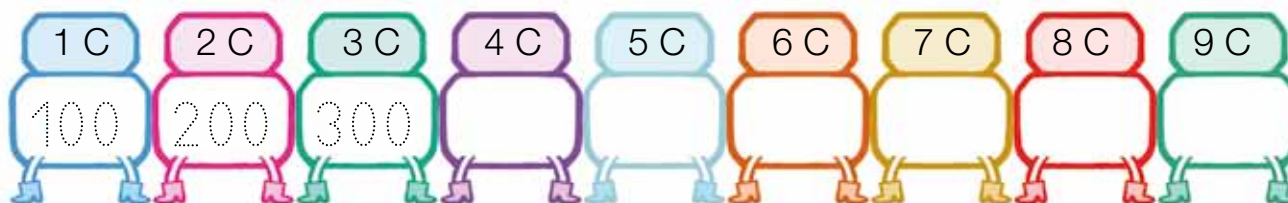


6 C = U



7 C = U

4 Escriu la sèrie.



5 Observa el cartell i escriu com es llig cada número.

- 300 ▶
- 500 ▶
- 700 ▶
- 800 ▶
- 900 ▶

Les centenes

- 100 ▶ cent
- 200 ▶ dos-cents
- 300 ▶ tres-cents
- 400 ▶ quatre-cents
- 500 ▶ cinc-cents
- 600 ▶ sis-cents
- 700 ▶ set-cents
- 800 ▶ huit-cents
- 900 ▶ nou-cents

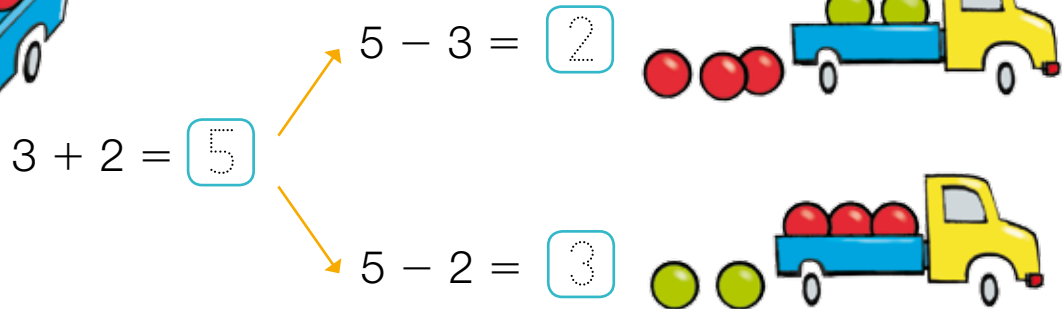
DICTAT DE NÚMEROS

Relació entre suma i resta



Daniel juga amb 5 boletes: 3 de roges i 2 de verdes.

Fixa't: amb tres números podem escriure una suma i dues restes.



1 Escriu amb els tres números una suma i dues restes.

$\square + \square = 10$

$10 - \square = \square$

$10 - \square = \square$

2 Pensa i escriu amb els mateixos números.

A partir d'una suma, una resta.

$9 + 5 = 14 \rightarrow 14 - \square = \square$

$10 + 6 = 16 \rightarrow \square - \square = \square$

$30 + 10 = 40 \rightarrow \square - \square = \square$

A partir d'una resta, una suma.

$12 - 8 = 4 \rightarrow 8 + \square = \square$

$17 - 10 = 7 \rightarrow \square + \square = \square$

$50 - 30 = 20 \rightarrow \square + \square = \square$

3 Calcula. Després, llig i contesta.

$$\begin{array}{r}
 \text{minuend} \triangleright \quad 38 \\
 \text{subtrahend} \triangleright \quad -13 \\
 \hline
 \text{diferència} \triangleright \quad \boxed{25} \quad \boxed{}
 \end{array}
 \qquad
 \begin{array}{r}
 13 \\
 +25 \\
 \hline
 38
 \end{array}$$

- És el resultat de la suma igual que el minuend de la resta?
- Està ben feta la resta?



4 Calcula les restes. En acabant, comprova amb una suma que estan ben fetes.

$$\begin{array}{r}
 19 \\
 -16 \\
 \hline
 \end{array}
 \triangleright
 \begin{array}{r}
 + \\
 \hline
 \end{array}$$

$$\begin{array}{r}
 70 \\
 -50 \\
 \hline
 \end{array}
 \triangleright
 \begin{array}{r}
 + \\
 \hline
 \end{array}$$

$$\begin{array}{r}
 58 \\
 -31 \\
 \hline
 \end{array}
 \triangleright
 \begin{array}{r}
 + \\
 \hline
 \end{array}$$

$$\begin{array}{r}
 96 \\
 -42 \\
 \hline
 \end{array}
 \triangleright
 \begin{array}{r}
 + \\
 \hline
 \end{array}$$

5 Pensa i completa amb el número que falta.

$$\boxed{} + 2 = 6 \qquad 5 + \boxed{} = 9 \qquad \boxed{} - 3 = 2 \qquad 7 - \boxed{} = 6$$

CÀLCUL MENTAL

26 - 2	35 - 4	57 - 3	69 - 7	78 - 5
52 - 10	49 - 30	64 - 40	95 - 60	83 - 70

1 Llig i resol.


- El cotxe val 35 euros i la moto val 14 euros menys que el cotxe. Quant val la moto?



Dades El cotxe ►

La moto ►

Operació moto ► -
cotxe



Solució


- A la nevera hi ha 42 iogurts de llima i 13 iogurts de maduixa més que de llima. Quants iogurts de maduixa hi ha?



Dades iogurts de llima ►

iogurts de maduixa ►






Operació



Solució

Interpretació de taules

Sílvia ha anotat en la taula la quantitat de fitxes que hi ha en un joc.

			
	12	15	20
	14	10	4



- Quants polps rojos hi ha? I caragols verds?
- Quantes papallones hi ha en el joc?



+ = ► Hi ha

1 Observa la taula anterior i escriu quantes fitxes hi ha de cada tipus.






2 Busca les dades en la taula anterior, pinta i calcula.

- Quants caragols hi ha en total?

	
+	
<hr/>	

Hi ha

- Quantes fitxes roges hi ha?

	
	
+	
<hr/>	

Hi ha

ACTIVITATS DE REPÀS

1 Escriu la desena més pròxima a cada número.

29 ►

32 ►

68 ►

87 ►

54 ►

76 ►

71 ►

93 ►

2 Escriu tres números que tinguen com a desena més pròxima la indicada.

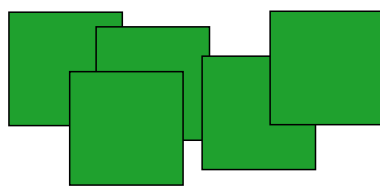
40 ► , i

80 ► , i

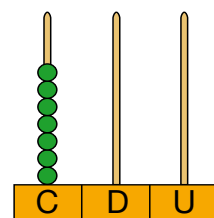
3 Completa.

C	D	U
3	0	0

C = U



C = U



C = U

4 Escriu el número i la seua descomposició.

Huitanta ► = D

Cent ► = C

Vint-i-cinc ► = D + U

Dos-cents ► = C

Noranta-dos ► = D + U

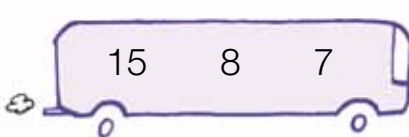
Sis-cents ► = C

5 Escriu amb cada grup de números una suma i una resta.




+ =

- =



+ =

- =



+ =

- =

6 Suma i resta.

$$\begin{array}{r} 45 \\ + 23 \\ \hline \end{array}$$

$$\begin{array}{r} 56 \\ + 31 \\ \hline \end{array}$$

$$\begin{array}{r} 82 \\ + 6 \\ \hline \end{array}$$

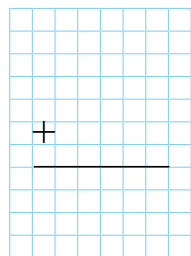
$$\begin{array}{r} 78 \\ - 42 \\ \hline \end{array}$$

$$\begin{array}{r} 97 \\ - 5 \\ \hline \end{array}$$

7 Calcula cada resta. En acabant, comprova si està ben feta.

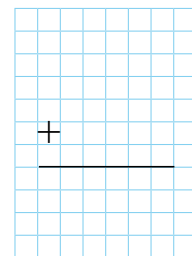
Prova de la resta

$$\begin{array}{r} 64 \\ - 23 \\ \hline \end{array}$$



Prova de la resta

$$\begin{array}{r} 98 \\ - 45 \\ \hline \end{array}$$



8 Calcula i completa amb la puntuació que falta en cada cas.

Irene, Pau i Daniel juguen amb la consola.






	1a partida	2a partida
Irene	52	<input type="text"/>
Pau	43	55
Daniel	<input type="text"/>	42

Puntuació total

▶ 97

▶

▶ 95



Sume?
Reste?

