



CUADERNO

Matemáticas

Primer trimestre

El cuaderno Matemáticas 1, para primer curso de Primaria, es una obra colectiva concebida, diseñada y creada en el Departamento de Ediciones Educativas de Santillana Educación, S. L., dirigido por **Antonio Brandi Fernández**.

En su elaboración ha participado el siguiente equipo:

TEXTO

Pilar García Atance

José Javier García Iglesias

M.^a del Mar de la Mata de la Mata

Magdalena Rodríguez Pecharromán

ILUSTRACIÓN

Mónica Calvo Gil

EDICIÓN




Vicente Camacho Díaz

DIRECCIÓN DEL PROYECTO


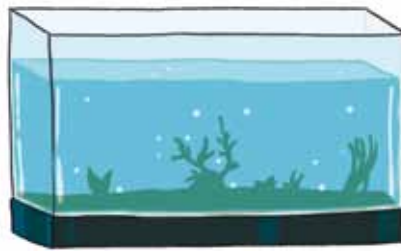
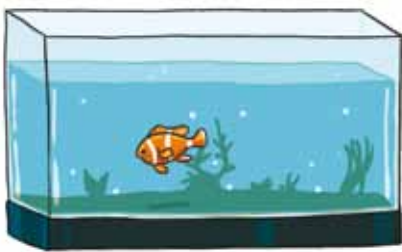
Maite López-Sáez Rodríguez-Piñero

Los números hasta el 5

1 ¿Cuántos peces hay? Cuenta y une.



0 1 2 3 4 5



2 Lee los números y colorea.



1



2




3



4



5



Los números hasta el 9

1 Busca y escribe cuántos hay.







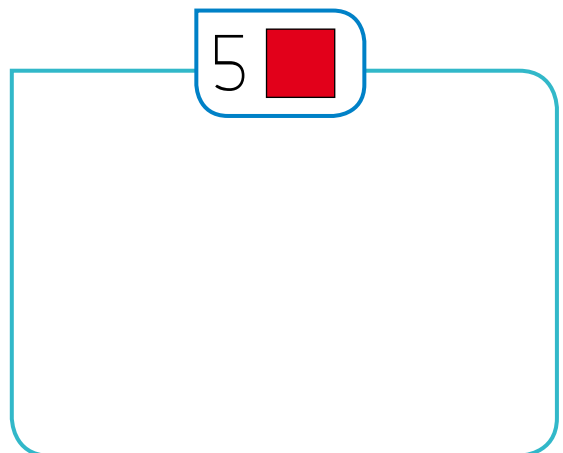
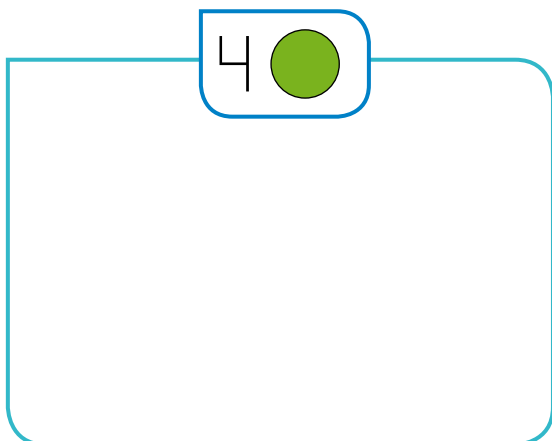




2 Completa las series.



3 Dibuja.



Comparación de números

1 Escribe.

un número mayor

1 ► 2 ►

5 ► 6 ►

7 ► 8 ►


un número menor

2 ► 3 ►

4 ► 5 ►

7 ► 9 ►

2 Ordena los números de menor a mayor.



3 Compara los números y colorea.

 el número mayor

 el número menor

2 > 7

0 > 7 > 9

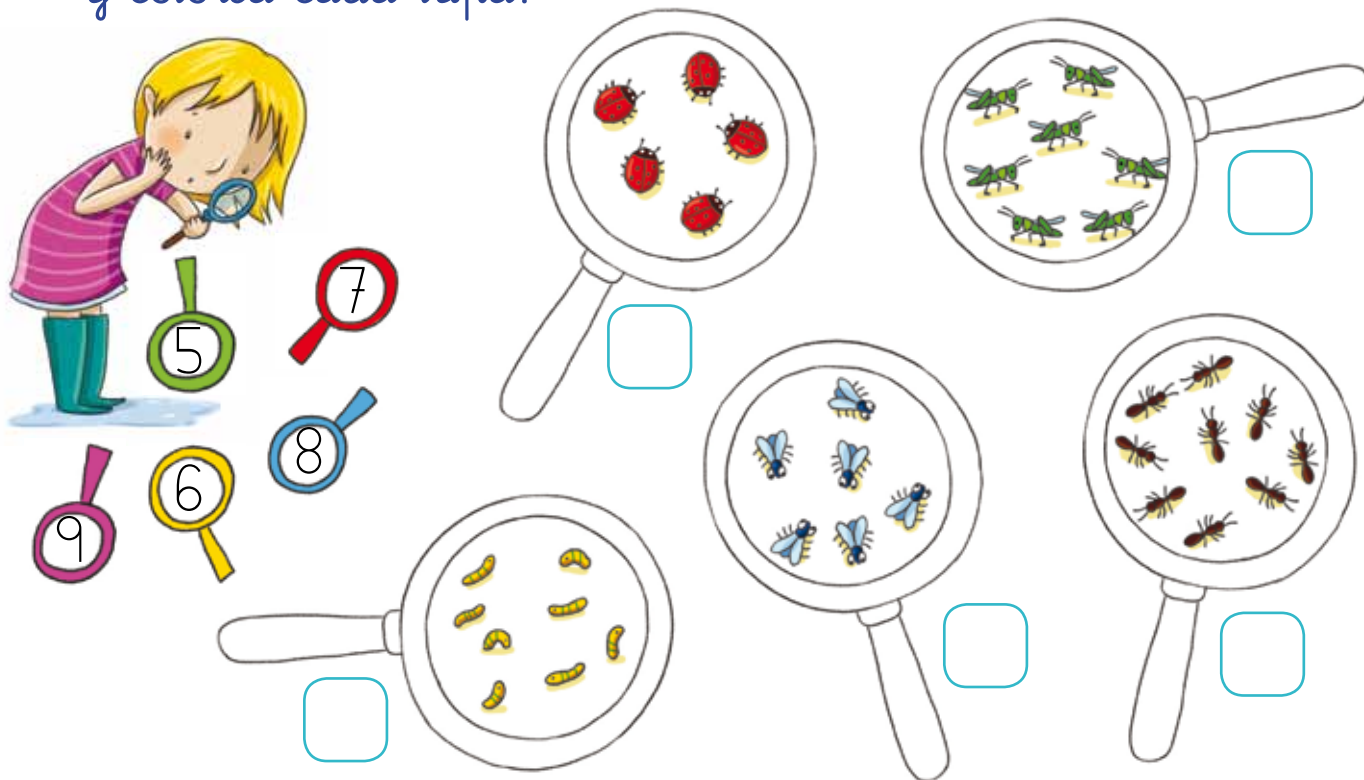
9 > 6

1 > 2 > 6 < 8













¿Cuántos hay?

1 ¿Cuántos insectos hay? Escribe el número y colorea cada lupa.



2 Colorea tantas casillas como insectos has contado.

| | | |
|---|---|--|
|  | ▶ |  |
|  | ▶ |  |
|  | ▶ |  |
|  | ▶ |  |
|  | ▶ |  |

Completo un sudoku numérico

1 Escribe los números que faltan.

Ojo: ¡no se puede repetir ningún número en la misma fila o columna!



Escribe números del 1 al 4.

| | | | |
|---|---|---|---|
| 1 | | 3 | 2 |
| 2 | | | |
| | | | 4 |
| 4 | 1 | | 3 |

Ahora, del 2 al 5.




| | | | |
|---|---|---|---|
| | 4 | 3 | 2 |
| 2 | | | |
| 3 | | | 4 |
| | 2 | 5 | |

2 Ordena de mayor a menor los números anteriores.


mayor

menor

1 Completa las series.



1



0

2

4

6

8

2 ¿Cuántos hay? Cuenta y escribe.











